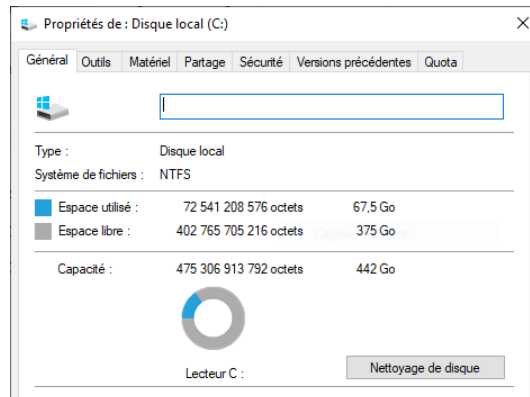


Exercice 1

Voici les propriétés d'un disque dur d'ordinateur données par le système Windows.



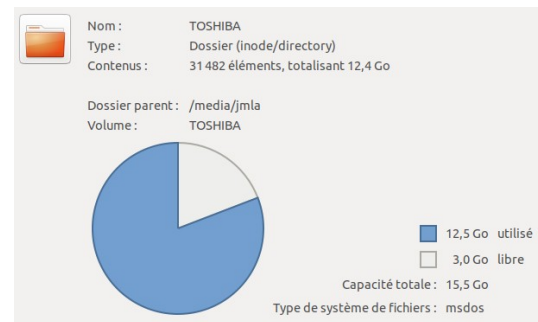
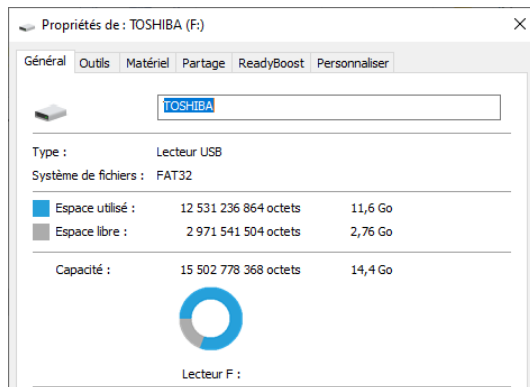
Compléter le tableau ci-contre en faisant les calculs nécessaires.

	Capacité en octets	Capacité en Go (3 chiffres significatifs)	Capacité en Gio (3 chiffres significatifs)
Espace utilisé			
Espace libre			
Capacité totale			

Que peut-on conclure ?

Exercice 2

Voici les propriétés d'une clé USB données par le système Windows à gauche et Linux à droite.



Compléter le tableau ci-contre en faisant les calculs nécessaires.

	Capacité en octets	Capacité en Go (3 chiffres significatifs)	Capacité en Gio (3 chiffres significatifs)
Espace utilisé			
Espace libre			
Capacité totale			

Que peut-on remarquer ?

Exercice 3 A faire chez vous

Quel est le système d'exploitation de votre ordinateur ?

Choisir un support, le disque dur ou une clé USB. Par un clic droit faire apparaître les propriétés de ce lecteur puis compléter un tableau semblable aux précédents.